

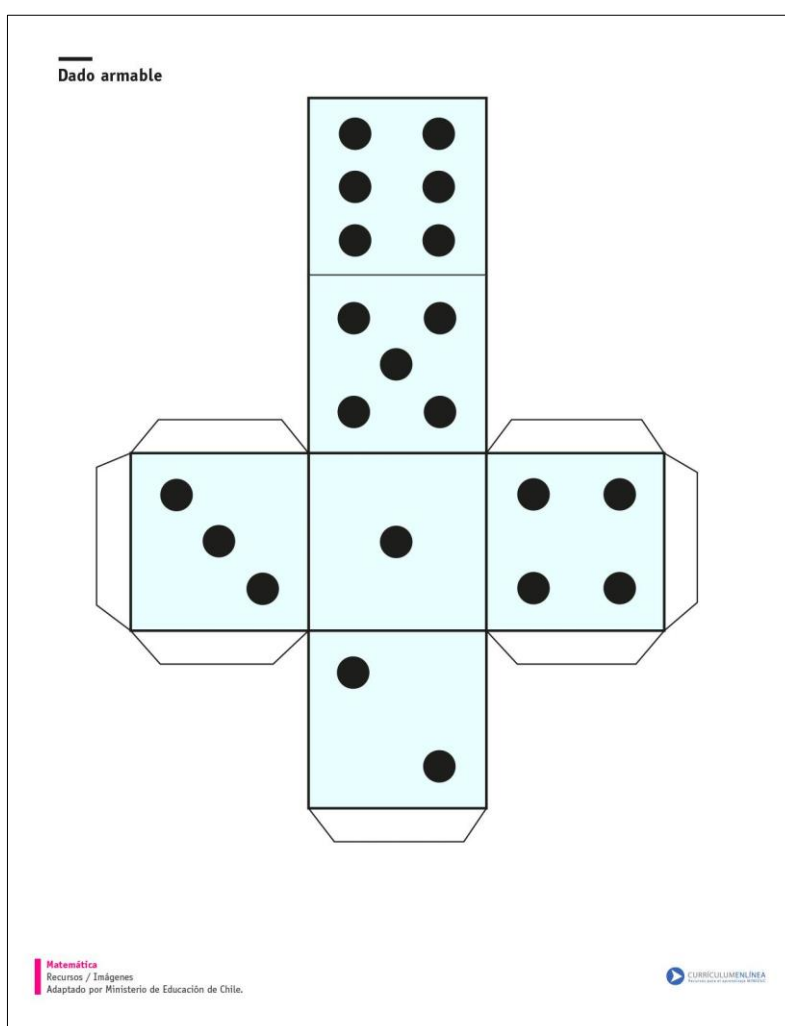
CUARTO GRADO DESDE CASA

ÁREA: MATEMÁTICA. DOCENTE: MÓNICA EGCEL

SEMANA DEL 9 AL 13 DE AGOSTO DE 2021

ACTIVIDADES

1. PARA EL JUEGO: "CARRERA DE ÁNGULOS" QUE HICIMOS EN CLASE USAMOS DADOS. A CONTINUACIÓN TE DEJO EL DESARROLLO DE UNO, QUE PODRÁS PEGAR SOBRE CARTÓN O CARTULINA PARA LUEGO ARMARLO.



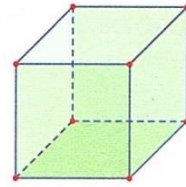
2. ESTE DADO REPRESENTA UN CUERPO GEOMÉTRICO. A CONTINUACIÓN TE DEJO INFORMACIÓN PARA LEER COMPRENSIVAMENTE Y ASÍ, REALIZAR UNA ANTICIPACIÓN DE CONTENIDOS QUE TRABAJAREMOS EN FORMA INTEGRADA PARA LA "FERIA DE CIENCIAS Y TECNOLOGÍA"



Un cuerpo geométrico ocupa un lugar en el espacio.

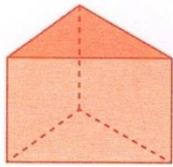
Elementos de un cuerpo:

- ✓ Las **caras**, que son **figuras**.
- ✓ Las **aristas**, que son **segmentos**.
- ✓ Los **vértices**, que son **puntos**.

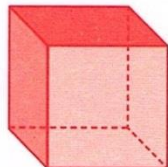


Los cuerpos pueden ser poliedros o redondos.

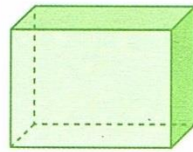
- Los cuerpos **poliedros** tienen todas sus **caras planas**. Pueden ser **prismas** o **pirámides**.



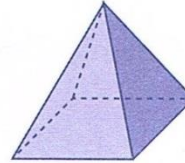
Prisma recto triangular




Prisma recto cuadrangular



Prisma recto rectangular



Pirámide recta cuadrangular

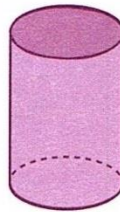


Pirámide recta pentagonal


- Los cuerpos **redondos** tienen **alguna cara no plana** y pueden **rodar** en alguna posición.



Cono



Cilindro



Esfera

3. RECONOCÉ EN EL DADO QUE ARMASTE ANTERIORMENTE LOS ELEMENTOS COMO LO SON: **CARAS, VÉRTICES Y ARISTAS**. NO TE OLVIDES TRAERLO A LA CLASE PARA MOSTRAR AL RESTO DE TUS COMPAÑEROS.


4. RESOLVÉ LA SIGUIENTE ACTIVIDAD:

19. Colocá el nombre del cuerpo que representa cada objeto.

a)



d)



b)



e)



c)



f)



5. BUSCÁ POR LA CASA Y DIBUJÁ O PEGÁ FIGURITAS DE OTROS EJEMPLOS COMO LOS DE LA ACTIVIDAD ANTERIOR.